

2020

19 العام الدراسي

Academic Year



امتحان الفصل الدراسي الأول

End of Term 1 Exam

| | | |
|---------------------|---------------------------|-------------------------------|
| | | رقم الطالب / Student No |
| | | اسم الطالب / Student Name |
| | | اسم المدرسة / School Name |
| الشعبة / Class | السابع (العام / النخبة) | الصف والمسار / Grade & Stream |
| الدراسات الاجتماعية | | المادة / Subject |

This table is to be filled by markers

يملأ هذا الجدول بدقة تامة من قبل لجنة التقدير.

| المراجع Reviser | المقَدِّر 2 Marker | المقَدِّر 1 Marker | الدَّرَجَة Mark | | رقم السَّؤال Question No. |
|-----------------|--------------------|--------------------|-----------------|------------------|--|
| | | | كتابة In Words | رقماً In Figures | |
| | | | | | السؤال الأول |
| | | | | | السؤال الثاني |
| | | | | | السؤال الثالث |
| | | | | | الدَّرَجَة المُستَحَقَّة Allotted Mark |

G07 Social Studies
الدراسات الاجتماعية

- يحظر تصوير أو تداول الورقة الامتحانية قبل أو أثناء أو بعد الامتحان من خلال البريد الالكتروني أو وسائل التواصل الاجتماعي أو أي وسيلة أخرى ومن يخالف ذلك سيخضع في حقه الإجراءات القانونية المتبعة.
- على إدارات المدارس و لجان الامتحانات ومراكز التقدير مراعاة ذلك، ورصد المخالفات، واتخاذ الإجراءات اللازمة.

- It is prohibited to photocopy or circulate the exam paper before / during and after the exam through e-mail, social media or any other means; and whoever violates this will be subject to the followed legal proceedings.
- School Administrations, Exam Committees and Marking Centers shall take this into account, monitor violations and take necessary measures



| | | | | | | | | | |
|---|-------------|-------|-------|----------|--------|--------|------|---------------------|--------|
| 6 | عدد الصفحات | الأول | الفصل | عام/نخبة | المسار | السابع | الصف | الدراسات الاجتماعية | المادة |
|---|-------------|-------|-------|----------|--------|--------|------|---------------------|--------|

30

السؤال الأول:

أولاً: أقرأ النص التالي، ثم أجب عما يليه من أسئلة باختيار الإجابة المناسبة من بين البدائل:

المملكة المغربية دولة عربية تقع في أقصى الشمال الغربي لأفريقيا على أبواب أوروبا، تحدها الجزائر شرقاً وموريتانيا جنوباً، وتطل بواجهتها الشمالية البحرية على كل من إسبانيا والبرتغال، وتشرف المغرب على البحر المتوسط والمحيط الأطلسي من جهتي الشمال والغرب ويربط بينهما مضيق جبل طارق.



جبل توبقال

تعد أرض المغرب منطقة جبلية حيث تمتد جبال الأطلس من الشمال الأوسط إلى الجنوب الغربي بطول 1350 كم ويعد جبل توبقال أعلى قمة في المغرب حيث يبلغ ارتفاعه 4165 متراً، وإلى الشمال توجد جبال الريف، والتي بدورها تمتد 250 كم من طنجة غرباً إلى الناظور شرقاً. وفي الغرب يوجد السهل المغربي الذي يمتد عبر ساحل

المحيط الأطلسي من طنجة إلى أكادير، بطول 800 كم، ثم إلى داخل البلاد عبر هضاب سايس قرب فاس، وساحل الحوز قرب مراكش، هذه التلال والسهول تعد أرضاً خصبة تسهم في الاقتصاد الوطني المحلي بنحو 15%.

1. يمتد السهل المغربي في غرب المملكة المغربية بطول:

c . 1350 كم

b . 800 كم

a . 250 كم

2. ترتبط المملكة المغربية بحدود برية مع كل من:

c . الجزائر وموريتانيا

b . أسبانيا والبرتغال

a . الجزائر وتونس

3. تسهم التلال والسهول الخصبة في المغرب بنحو 15 % من:

c . التجارة الخارجية

b . الدخل القومي الإجمالي

a . الناتج المحلي

4. من أهم مدن المملكة المغربية:

a . أكادير، مراكش، القيروان، الناظور

b . فاس، طنجة، مراكش، أكادير

c . أكادير، فاس، نواكشوط، بنغازي

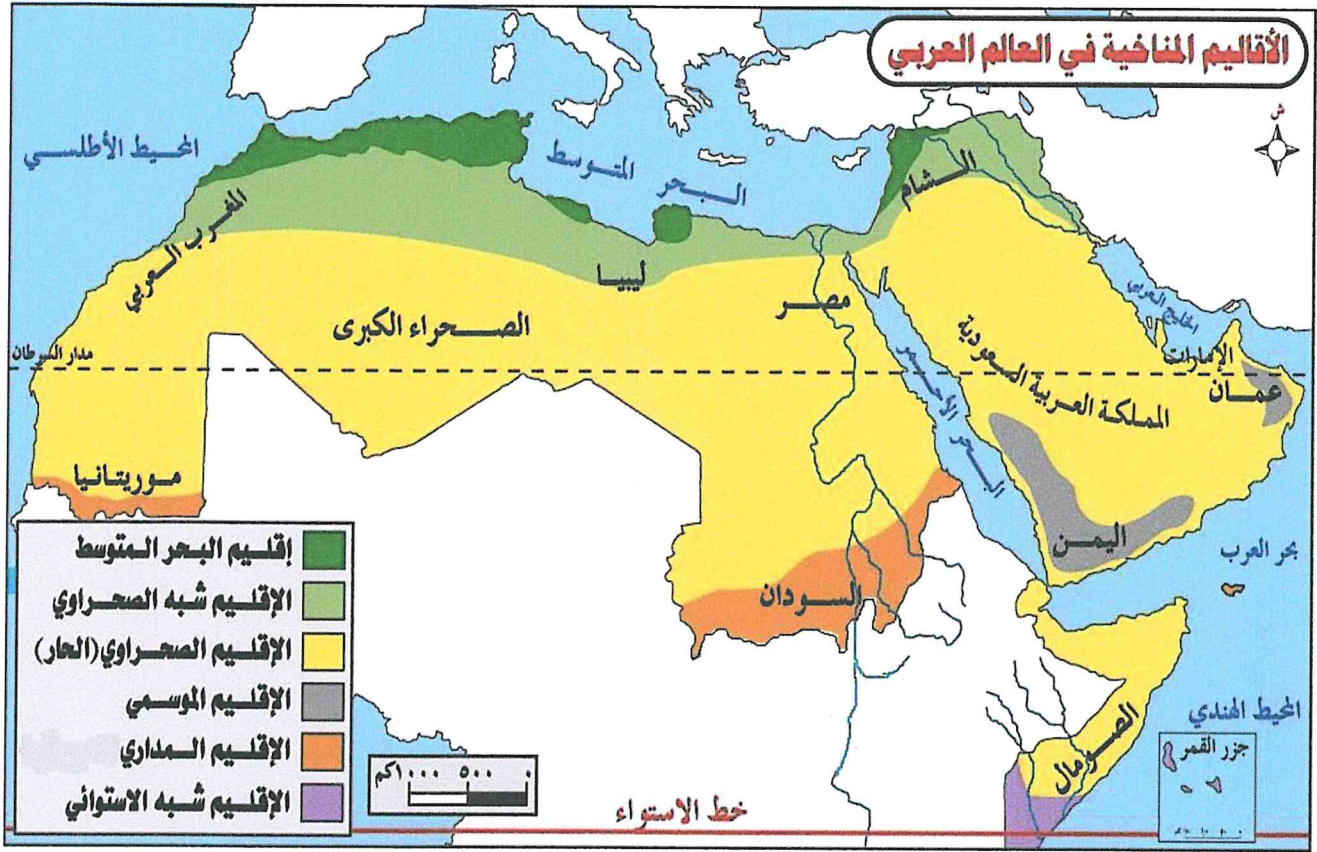
5. أطول سلسلة جبلية في المملكة المغربية:

c . جبال الأطلس

b . جبال الريف

a . جبال الحجر

ثانيًا: حلّل الخريطة التالية، ثم أجب عما يليها من أسئلة باختيار الإجابة المناسبة من بين البدائل:



6. دولة الإمارات العربية المتحدة تقع ضمن الإقليم:

- a. شبه الصحراوي b. الصحراوي الحار c. المعتدل

7. الإقليم المداري يسود في أجزاء من دولتي:

- a. مصر والسودان b. الجزائر وموريتانيا c. السودان وموريتانيا

8. يسود إقليم البحر المتوسط في أجزاء متفرقة من:

- a. شمال الوطن العربي b. جنوب الوطن العربي c. شرق الوطن العربي

9. دائرة العرض الرئيسية (خط الاستواء) تمر في دولة عربية واحدة، هي:

- a. المغرب b. الصومال c. ليبيا

10. يسود مناطق المرتفعات اليمنية الإقليم:

- a. الموسمي b. شبه الصحراوي c. الاستوائي

30

السؤال الثاني:

أولاً: اقرأ بيانات الشكل التالي، ثم أجب عما يليه من أسئلة باختيار الإجابة المناسبة من بين البدائل:



11. بلغ العدد الإجمالي للمواليد في أبوظبي وفق الكتاب السنوي الإحصائي لعام 2017م، تقريباً:
a. (35) ألف . b. (40) ألف . c. (45) ألف

12. قدمت حكومة أبوظبي مساعدات اجتماعية للمواطنين عام 2017م وبزيادة عن عام 2015م بنسبة:
a. (3.6) % . b. (3.4) % . c. (3.2) %

13. الخدمات الطبية في العاصمة مقدمة لفئة:
a. المواطنين فقط . b. المقيمين والزائرين فقط . c. المواطنين والمقيمين والزائرين

14. بلغت نسبة الذكور وفق الكتاب السنوي الإحصائي لعام 2017م في أبوظبي، نحو:
a. 64 % . b. 36 % . c. 46 %

15. العدد التقريبي لسكان العاصمة وفق الكتاب السنوي الإحصائي لعام 2017م:
a. (2) مليون نسمة . b. (2.5) مليون نسمة . c. (3) مليون نسمة



| | | | | | | | | | |
|---|-------------|-------|-------|----------|--------|--------|------|---------------------|--------|
| 6 | عدد الصفحات | الأول | الفصل | عام/نخبة | المسار | السابع | الصف | الدراسات الاجتماعية | المادة |
|---|-------------|-------|-------|----------|--------|--------|------|---------------------|--------|

ثانيًا: تأمل الحرف والمهن القديمة في دولة الكويت، ثم أجب عما يلها من أسئلة باختيار الإجابة المناسبة من بين البدائل:



الكندري: مهنة قديمة لشخص يحمل الماء ليوصله إلى البيوت مستخدمًا علبتين من المعدن يتم تعليق كل واحدة منها بواسطة حبل في أحد طرفي عصا يضعه الكندري على كتفه.



الحدّاد: تعتبر الحدادة من أهم الحرف القديمة نظرًا لحاجة الناس للمنتجات الحديدية وذلك لاستخداماتها الكثيرة في المنازل والدكاكين والحرف المختلفة.



البنّاي: أو البنّاء وهو عامل البناء الذي يقوم بالأعمال التي تتطلب جهدًا عضليًا لمساعدة مقاول البناء في إنجاز عمله، ويشترك في أعمال البناء مجموعة من الرجال.



النجّار: يتكون العمل الرئيسي للتجارين في الماضي من صناعة الأبواب الخارجية الكبيرة للمنازل وأبواب الغرف والشبابيك والكراسي وغيرها.



الخراز: صانع المنتجات الجلدية التي تتكون أساسًا من الأحذية (النعل) والقرب التي تحفظ فيها السوائل، وغيرها من المنتجات، ويستخدم فيها جلود الأنعام.

16. يتميز الحداد بصناعة منتجات كثيرة، منها:

- a. شراع السفينة b. المسامير الكبيرة للسفن c. حبال السفن

17. صانع الحقائب الجلدية، يسمى:

- a. الخراز b. الجلاف c. القطن

18. من الأشياء التي يقوم البنّاي بعملها:

- a. الغوص b. حصد الغلال c. إنشاء المساجد

19. حرفي لا يستغني عنه أصحاب البيوت، يقوم بصنع الشبابيك والكراسي، هو:

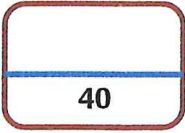
- a. الصياد b. النجار c. الفلاح

20. يقوم الكندري بمهمة ضرورية للسكان، وهي:

- a. تعليم الصبيان b. علاج المرضى c. إيصال الماء للمنازل



| | | | | | | | | | |
|--------|---------------------|------|--------|--------|----------|-------|-------|-------------|---|
| المادة | الدراسات الاجتماعية | الصف | السابع | المسار | عام/نخبة | الفصل | الأول | عدد الصفحات | 6 |
|--------|---------------------|------|--------|--------|----------|-------|-------|-------------|---|



السؤال الثالث:

أولاً: اقرأ النص التالي، ثم أجب عما يليه من أسئلة باختيار الإجابة المناسبة من بين البدائل:

كانت بلاد الشام خاضعة للإمبراطورية البيزنطية، وكان السكان قبل الفتح الإسلامي يشعرون بالظلم بسبب الضرائب الباهظة التي فرضت عليهم، مما سبب انتشار الفساد، وتفشي السرقة، والفقروالخراب، وفقدان الأمن. ومن الأمثلة التي يسوقها المؤرخون المتعلّقة بالظلم الاجتماعي، أنّ المسلمين عندما اضطرّوا للجلاء عن حمص قبل معركة اليرموك، طلب أبو عبيدة من عامله على الخراج أن يُعيد ما كان قد أخذهُ من أهل حمص إليهم، واجتمع حبيب بن مسلمة بأهل حمص وردّ عليهم مالهم، فقالوا له: (رَدَّكُمُ اللهُ إِلَيْنَا، وَاللهُ لَوْلَايَتِكُمْ وَعَدْلُكُمْ أَحَبُّ إِلَيْنَا مِمَّا كُنَّا فِيهِ مِنَ الظُّلْمِ).

أما من الناحية الدينية فقد سادت الديانة النصرانية بلاد الشام، وحصل لها ما حصل من الانقسام إلى طوائف عدة مما أدى فيما بعد إلى الاضطهاد الديني عند غالبية السكان. وأما من الناحية العسكرية كانت الإمبراطورية البيزنطية تعتمد إلى تجنيد المرتزقة -الذين ليس لهم ولاء للدولة- للقتال في صفوف جيوشها عند قيام أيّ حرب، مما أدى إلى توالي الخسائر في حروبهم مع الفرس.

21. كانت بلاد الشام قبيل الفتح الإسلامي تعاني من :

- a . الظلم الاجتماعي b . الاستقرار الاجتماعي c . الرخاء الاجتماعي

22. خضعت بلاد الشام قبل الفتح الإسلامي تحكم الإمبراطورية :

- a . الفارسية b . البيزنطية c . اليونانية

23. كان الامبراطور في بلاد الشام أثناء الحروب يستعين على القتال بـ :

- a . الفلاحين b . الأمراء c . المرتزقة

24. انقسام الطوائف النصرانية في بلاد الشام أدى إلى وجود :

- a . الاضطهاد الديني b . التسامح الديني c . الرضى التام

25. رد أبو عبيدة بن الجراح الأموال التي أخذها من أهل مدينة :

- a . حلب b . دمشق c . حمص

ثانياً: حلل النص التالي، ثم أجب عما يليه من أسئلة:

الإنسان بطبيعته لا يستطيع العيش بمفرده؛ لأن الخصائص الاجتماعية هي من سمات الطبيعة الإنسانية، فالفطرة السليمة تدعو الإنسان دائماً إلى تقديم الخير. وتعتبر الأعمال التطوعية من أحد المصادر المهمة للخير؛ لأنها تساهم في عكس صورة إيجابية عن المجتمع، وتوضّح مدى ازدهاره، وانتشار الأخلاق الحميدة بين أفرادها؛ لذلك يعدُّ العمل التطوعي ظاهرة إيجابية، ونشاطاً إنسانياً مهماً فهو سلوك حضاري يساهم في تعزيز قيم التعاون. إذن فالعمل التطوعي هو تقديم المساعدة والعون والجهد من أجل العمل على تحقيق الخير في المجتمع عموماً ولأفراده خصوصاً، وأطلق عليه مسمى عمل تطوعي لأن الإنسان يقوم به طواعية دون إجبار من الآخرين على فعله، فهو إرادة داخلية، ودليل على ازدهار المجتمع، فكلمة زاد عدد العناصر الإيجابية والبناءة في مجتمع ما، أدى ذلك إلى تطوره ونموه. وللعمل التطوعي أشكال عدة منها، التطوع الافتراضي أو الإلكتروني، التطوع الشامل؛ أي التطوع على مدار الساعة (سبعة أيام في الأسبوع). التطوع قصير الأجل، التطوع في الدوائر الحكومية، التطوع في منظمات خدمة المجتمع.

26. كَوّن تعميماً مناسباً بالاستعانة بالكلمات التالية: (المجتمع - العمل التطوعي - التطور والنمو)

.....

27. بم تفسر عدم إمكانية الإنسان العيش بمفرده؟

.....

28. صغ بأسلوبك تعريفاً مناسباً للعمل التطوعي.

.....

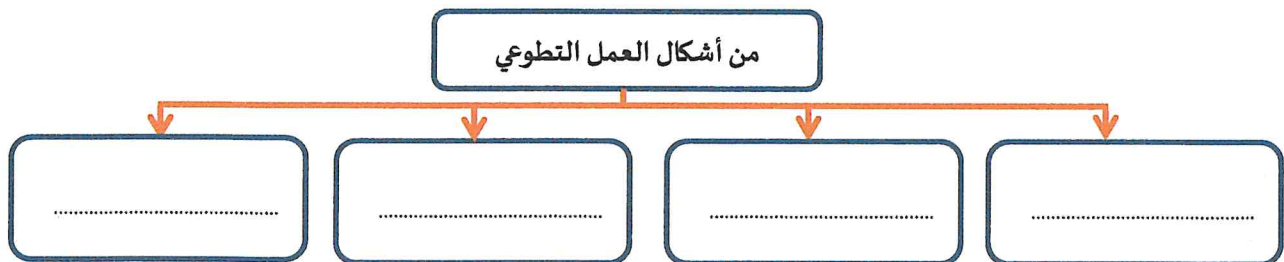
29. استخلص من النص اثنتين من القيم السلوكية الإيجابية:

.....

30. عدد اثنتين من الآثار الإيجابية للعمل التطوعي.

.....

31. أكمل بيانات المخطط التالي:



**انتهت الأسئلة
بالتوفيق والنجاح**

